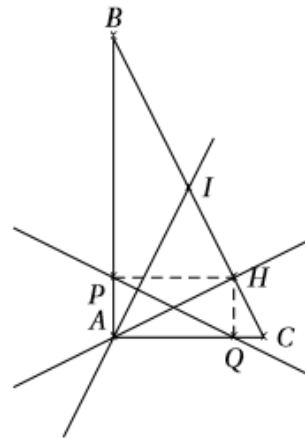


Exercice 1

ABC est un triangle rectangle en A . H est le pied de la hauteur issue de A ; I est le milieu de $[BC]$; P et Q sont les projetés orthogonaux de H respectivement sur (AB) et (AC) .

1. Montrer que $\frac{1}{2}\vec{AB} + \frac{1}{2}\vec{AC} = \vec{AI}$.
2. Justifier que $\vec{AB} \cdot \vec{PQ} = \vec{AB} \cdot \vec{HA}$ et que $\vec{AC} \cdot \vec{PQ} = \vec{AC} \cdot \vec{AH}$.
3. En déduire que $\vec{AI} \cdot \vec{PQ} = 0$.
4. Que peut-on en déduire pour les droites (AI) et (PQ) ?

**Exercice 2**

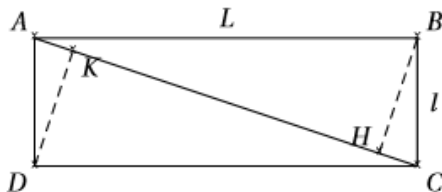
ABC est un triangle dans lequel $AB = 2$ et $AC = 3$. De plus $\vec{AB} \cdot \vec{AC} = 4$. Ce triangle est-il rectangle?

Exercice 3

$ABCD$ est un parallélogramme avec $AB = 4$, $AD = 5$ et $AC = 7$. Calculer $\vec{AB} \cdot \vec{AD}$. En déduire BD

Exercice 4

$ABCD$ est un rectangle de longueur L et de largeur l . Soient H et K les projetés orthogonaux des sommets B et D sur la diagonale (AC) .



1. Calculer HK en fonction des longueurs des côtés L et l .
On pourra évaluer de deux manières le produit scalaire $\vec{CA} \cdot \vec{BD}$.
2. Comment choisir L et l pour avoir $AC = 2HK$?
Exprimer alors l'aire du parallélogramme $BHDK$ en fonction de l'aire du rectangle $ABCD$.

Exercice 5

$ABCD$ est un losange de sens direct et de centre O . On donne $AC = 10$ et $BD = 6$.

1. Calculer $\vec{AB} \cdot \vec{AD}$.
2. On note P le projeté orthogonal de D sur la droite (AB) . Calculer AP .
3. En déduire la hauteur du losange si l'on choisit comme base le côté $[AB]$

Exercice 6

On considère un rectangle $ABCD$ tel que $AB = 8$ cm et $AD = 6$ cm et on nomme I le milieu du segment $[CD]$.

1. Faire une figure, que l'on complétera au fur et à mesure de l'exercice, puis calculer la longueur AC .
2. Exprimer chacun des vecteurs \vec{AC} et \vec{AI} en fonction des vecteurs \vec{AB} et \vec{AD} et en déduire que $\vec{AC} \cdot \vec{AI} = 68$.
3. Soit H le projeté orthogonal de I sur (AC) .
En calculant d'une autre manière le produit scalaire $\vec{AC} \cdot \vec{AI}$, déterminer la longueur du segment $[AH]$.

Exercice 7

ABC est un triangle rectangle isocèle en A . D et E sont des points appartenant respectivement à $[AB]$ et $[AC]$ tels que $AD = AE$. F est le milieu de $[CD]$.

Démontrer que (AF) est perpendiculaire à (EB) .

Exercice 8

On considère un carré direct $ABCD$, M un point libre sur le segment $[AB]$ et N le point tel que le triangle ANM soit direct, rectangle et isocèle en A . Que peut-on dire des droites (BN) et (DM) ?

Exercice 9

A et B désignant deux points distincts du plan, on nomme \mathcal{C} un des deux demi-cercles de diamètre $[AB]$.

Sur \mathcal{C} privé de ses extrémités, on place deux points distincts I et J .

Enfin, la hauteur issue de I dans le triangle ABI coupe (AB) en H et (AJ) en K .

Établir, en ne calculant aucun produit scalaire, que $AI^2 = \overrightarrow{AK} \cdot \overrightarrow{AJ}$.

Exercice 10 Une histoire d'inégalité...

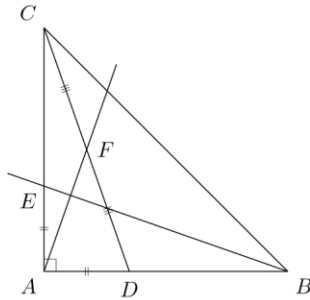
Le but de cet exercice est de prouver, par deux méthodes différentes, que pour tous réels x, y, z et t :

$$(xz + yt)^2 \leq (x^2 + y^2)(z^2 + t^2) \quad (\star)$$

1. Vérifier que $(x^2 + y^2)(z^2 + t^2) - (xz + yt)^2 = (xt - yz)^2$ et en déduire (\star) .

2. Justifier que, pour tous vecteurs \vec{u} et \vec{v} du plan, $(\vec{u} \cdot \vec{v})^2 \leq \|\vec{u}\|^2 \times \|\vec{v}\|^2$ puis démontrer (\star) en considérant les deux vecteurs $\vec{u} \begin{pmatrix} x \\ y \end{pmatrix}$ et $\vec{v} \begin{pmatrix} z \\ t \end{pmatrix}$ dans le plan muni d'une base orthonormale (\vec{i}, \vec{j}) .

EXERCICE 13



En choisissant AB pour unité de longueur, on se place dans le repère orthonormal $(A, \overrightarrow{AB}, \overrightarrow{AC})$.

En notant x l'abscisse du point D dans ce repère, nous pouvons donner les coordonnées respectives des points de la configuration de l'énoncé :

- $A(0; 0)$;
- $C(0; 1)$;
- $E(0; x)$;
- $B(1; 0)$;
- $D(x; 0)$;
- $F\left(\frac{x}{2}; \frac{1}{2}\right)$.

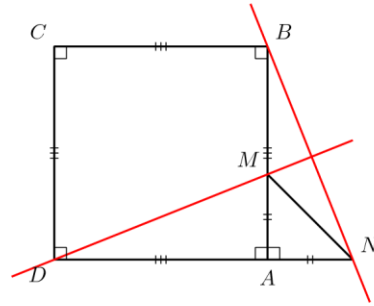
Il vient alors :

$$\overrightarrow{AF} \begin{pmatrix} x_F - x_A \\ y_F - y_A \end{pmatrix} = \overrightarrow{AF} \begin{pmatrix} x/2 \\ 1/2 \end{pmatrix} \text{ et } \overrightarrow{EB} \begin{pmatrix} x_B - x_E \\ y_B - y_E \end{pmatrix} = \overrightarrow{EB} \begin{pmatrix} 1 \\ -x \end{pmatrix}$$

$$\text{et } \overrightarrow{AF} \cdot \overrightarrow{EB} = \frac{x}{2} \times 1 + \frac{1}{2} \times (-x) = 0.$$

Ainsi, les vecteurs \overrightarrow{AF} et \overrightarrow{EB} sont orthogonaux d'où les droites (AF) et (EB) sont perpendiculaires.

EXERCICE 15



On se place dans le repère orthonormal $(D; \overrightarrow{DA}, \overrightarrow{DC})$ et on note x la distance AM .

On a $D(0; 0)$, $B(1; 1)$, $M(1; x)$ et $N(1 + x; 0)$ donc $\overrightarrow{BN} \begin{pmatrix} x_N - x_B \\ y_N - y_B \end{pmatrix} = \overrightarrow{BN} \begin{pmatrix} x \\ -1 \end{pmatrix}$ et $\overrightarrow{DM} \begin{pmatrix} x_M - x_D \\ y_M - y_D \end{pmatrix} = \overrightarrow{DM} \begin{pmatrix} 1 \\ x \end{pmatrix}$.

$$\text{Par conséquent : } \overrightarrow{BN} \cdot \overrightarrow{DM} = x_{\overrightarrow{BN}} \times x_{\overrightarrow{DM}} + y_{\overrightarrow{BN}} \times y_{\overrightarrow{DM}} \\ = x \times 1 + (-1) \times x \\ = 0$$

Ainsi, les vecteurs \overrightarrow{BN} et \overrightarrow{DM} sont orthogonaux d'où les droites (BN) et (DM) sont perpendiculaires.